





TP : études de fonctions liées à la géométrie


Exercice I : les fonctions avec Geogebra

Il existe deux modes de Geogebra essentiels concernant les fonctions :

- le mode « Graphique (2D) », où peuvent cohabiter des courbes de fonctions, des points, des vecteurs, etc. Les calculs qui y sont faits sont en **valeur approchée**.
- Le mode « Calcul formel » qui permet des calculs en **valeur exacte**.


Soit la fonction f définie sur \mathbb{R} par : $f(x) = \frac{3x^2 - 5x + 1}{x^2 + 3}$.

 Mode Graphique	<p>Affichage de la courbe de f : tapez dans <input type="text" value="Saisie:"/> $(3x^2 - 5x + 1)/(x^2 + 3)$</p> <p>Geogebra appelle cette fonction f. On pouvait aussi taper :</p> $f(x) = (3x^2 - 5x + 1)/(x^2 + 3)$ <p>Placement d'un point sur la courbe, trois cas de figures :</p> <ul style="list-style-type: none">• utiliser  pour placer un point quelconque sur la courbe, qu'on pourra ensuite déplacer avec  ;• taper dans Saisie : $(1/3, f(1/3))$ pour placer le point d'abscisse $1/3$ (et avoir au passage l'image <i>approximative</i> de 1) ;• taper dans Saisie : $y = 2$ pour tracer la droite d'équation $y = 2$ puis utiliser l'outil  pour obtenir les points de la courbe d'ordonnée 2.
--	---

 Mode Calcul formel	<p>Ouvrez une nouvelle fenêtre et affichez le mode « Calcul formel ».</p> <p>Entrez ceci :</p> $f(x) = (3x^2 - 5x + 1)/(x^2 + 3)$ <p>rien ne se passe.</p> <p>Entrez maintenant ceci :</p> $f(x) := (3x^2 - 5x + 1)/(x^2 + 3)$ <p>et la fonction f est définie pour Geogebra.</p>
---	--



Remarque : dans le mode « Calcul formel », le $=$ sert surtout dans les équations ; pour définir une fonction dans ce mode, on utilise un $:=$ à la place du $=$.

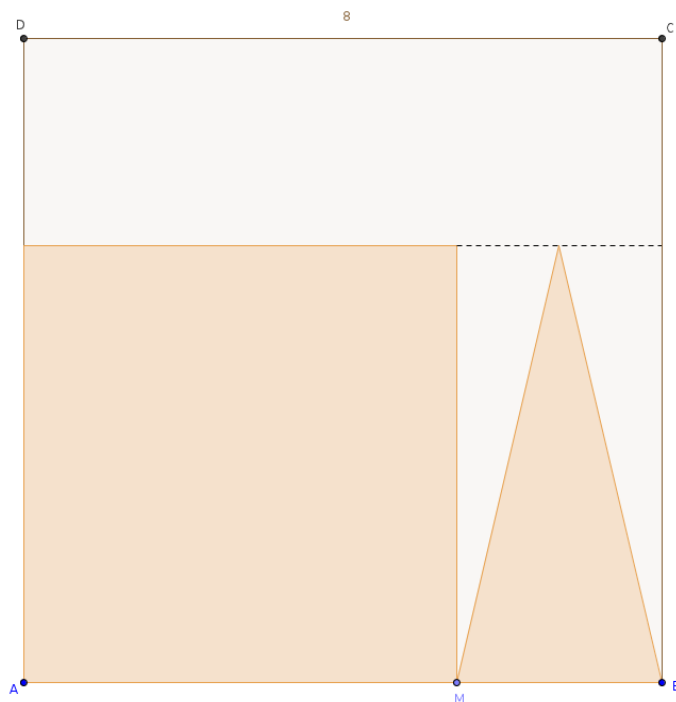
	<p>Pour calculer l'image <i>exacte</i> de $1/3$, on tape :</p> $f(1/3)$ <p>Pour trouver les abscisses des points d'ordonnée 2, on peut taper :</p> $\text{Résoudre}(f(x)=2)$
---	--

Exercice II : les fonctions avec Geogebra

Soit $ABCD$ un carré de côté 8. On place sur le segment $[AB]$ un point M (mobile) et on construit, à l'intérieur du carré $ABCD$:

- un petit carré ;
- un triangle

de la façon décrite sur cette figure :



On obtient ainsi un logo formé du petit carré et du triangle.

On s'intéresse dans cet exercice à l'aire de ce logo.

On s'intéresse aux trois problèmes indépendants suivants :

- **problème 1** : quelle est l'aire quand $AM = 5$?
- **problème 2** : pour quelle position de M l'aire est-elle maximale ?
- **problème 3** : pour quelle position de M l'aire est-elle égale à 30 ?

Approche 1 : utilisation de la figure



1°) Recréez la figure dans Geogebra et répondez aux problèmes en valeur approchée.

Approche 2 : utilisation d'une fonction



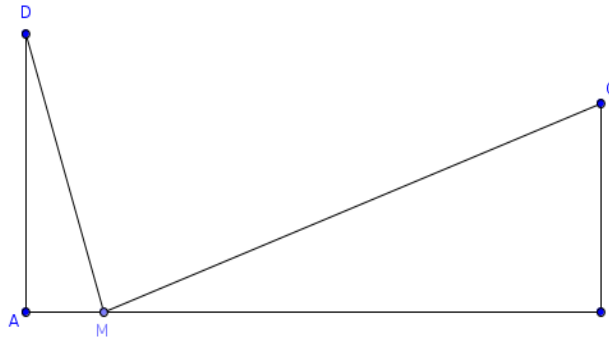
2°) Trouvez une fonction qui donne l'aire du logo en fonction de la position de M .



3°) En utilisant cette fonction, retrouvez les réponses aux trois problèmes en valeur approchée puis en valeur exacte.

Exercice III

On considère la figure ci-dessous, pour laquelle $AB = 8$, $AD = 4$ et $BC = 3$ et où M est un point variable sur le segment $[AB]$.



Problèmes :

- **problème 1** : pour quelle(s) position(s) de M les longueurs DM et MC sont-elles égales ?
- **problème 2** : pour quelle(s) position(s) de M les droites (DM) et (MC) sont-elles perpendiculaires ?

Approche informatique



Reproduisez la figure et conjecturez les solutions (approchées) aux deux problèmes.

Approche géométrique (construction)



1°) Par quelle construction géométrique obtient-on le (ou les) point(s) M dans le cas du problème 1 ?

2°) Même question pour le problème 2.

Indication : pensez au segment $[DC]$.

Approche numérique



3°) a) On note x la longueur AM . Écrivez en fonction de x les nombres DM^2 et MC^2 .
b) Résoudre alors le problème 1.

4°) a) Calculez la longueur DC .

b) Dans le cadre du problème 2, en utilisant le fait que DMC est rectangle, prouvez que x est solution de l'équation $x^2 - 8x + 12 = 0$.

c) Déduisez-en la réponse exacte au problème 2.



Vérifiez la réponse au c).